

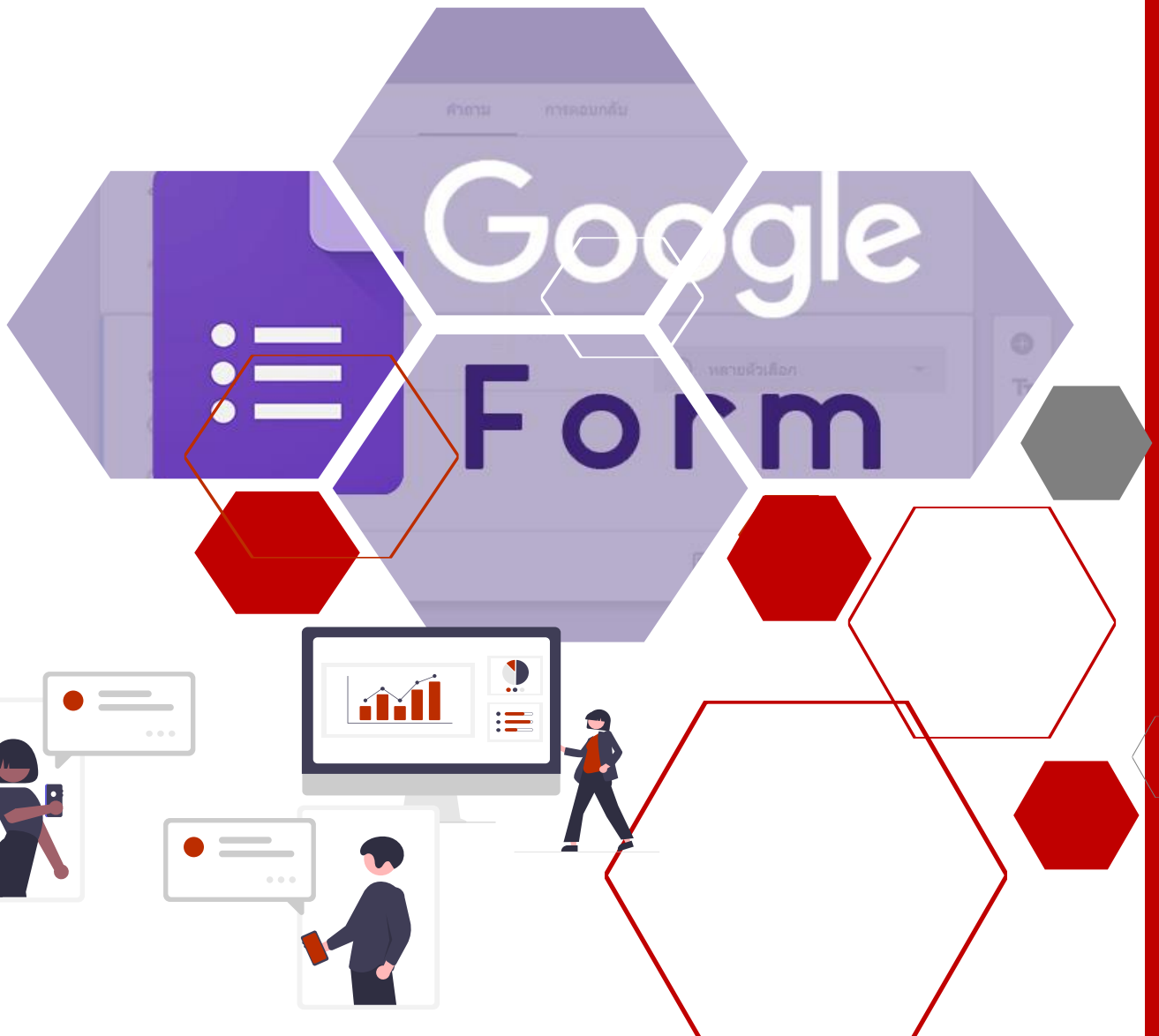


มหาวิทยาลัย  
กรุงเทพมหานคร  
BANGKOKTHONBURI UNIVERSITY

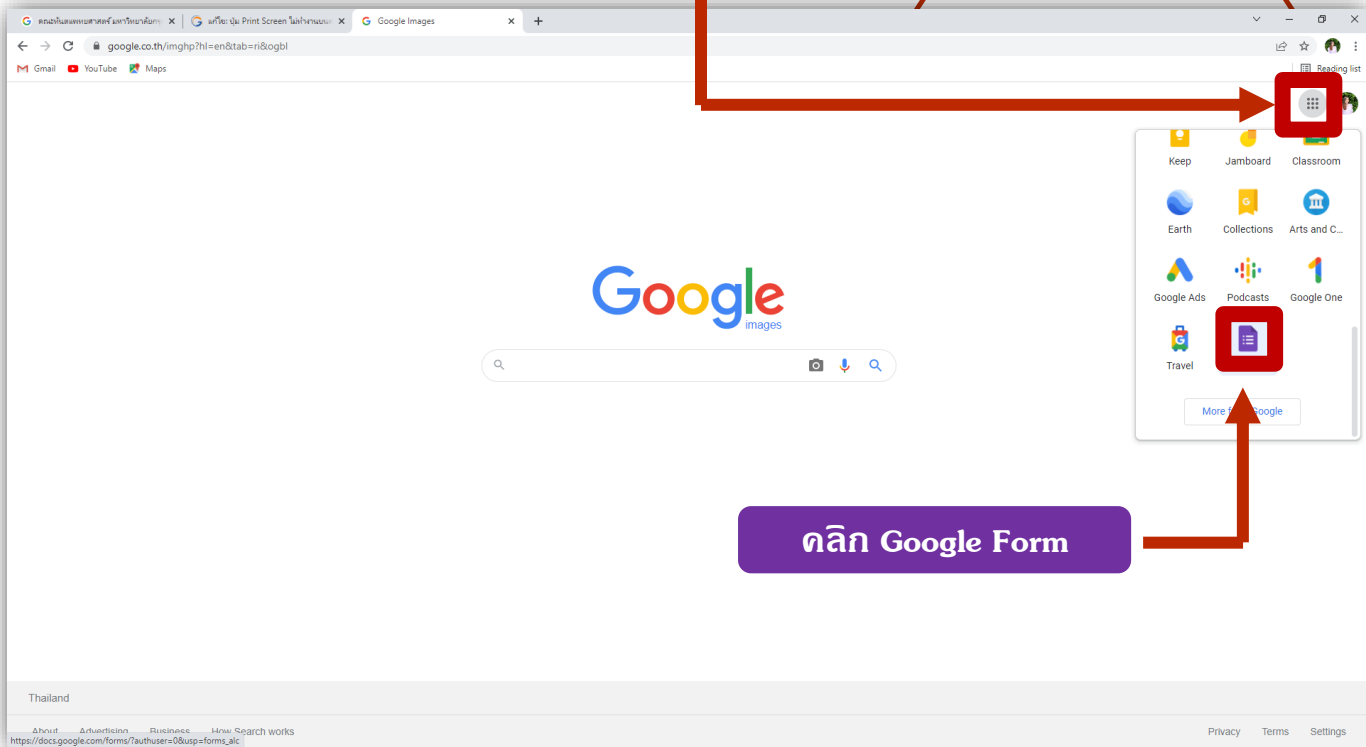
คู่มือการใช้งาน

Google Forms

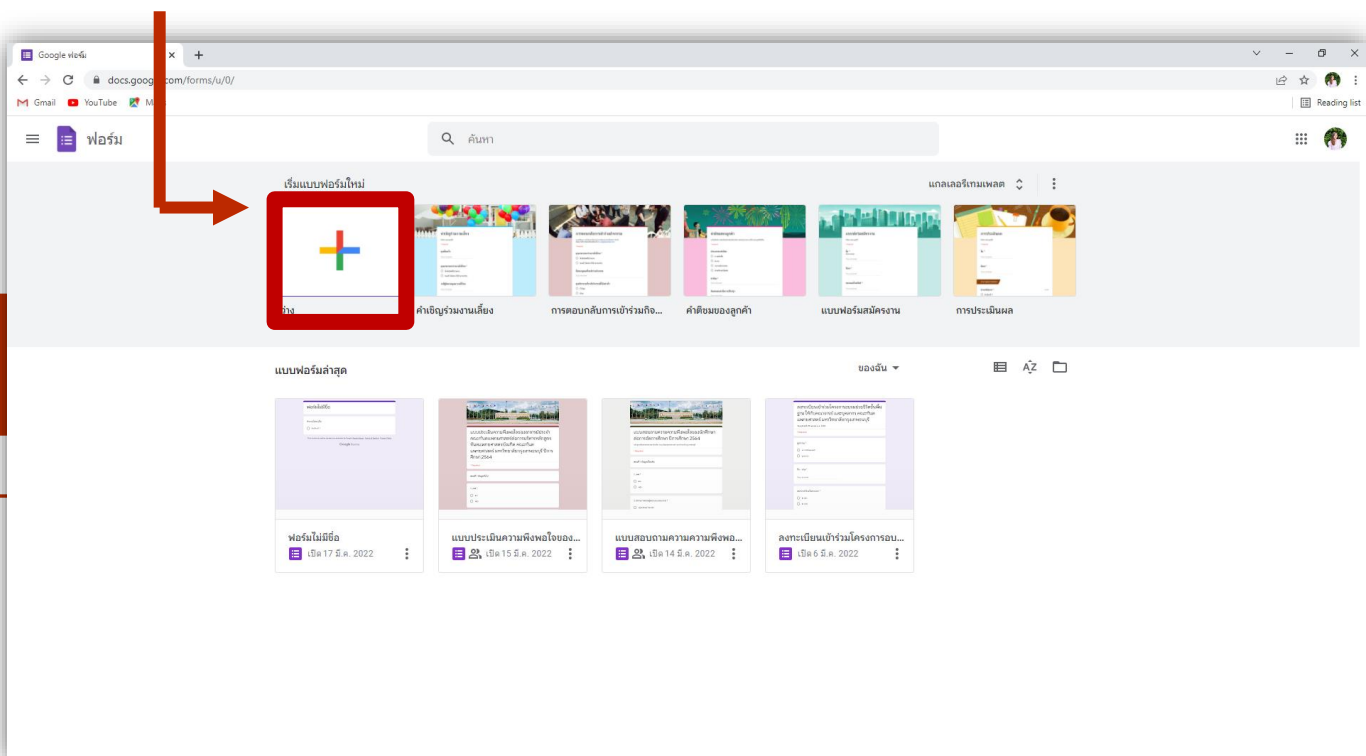
สร้างแบบสอบถาม  
หรือแบบทดสอบ



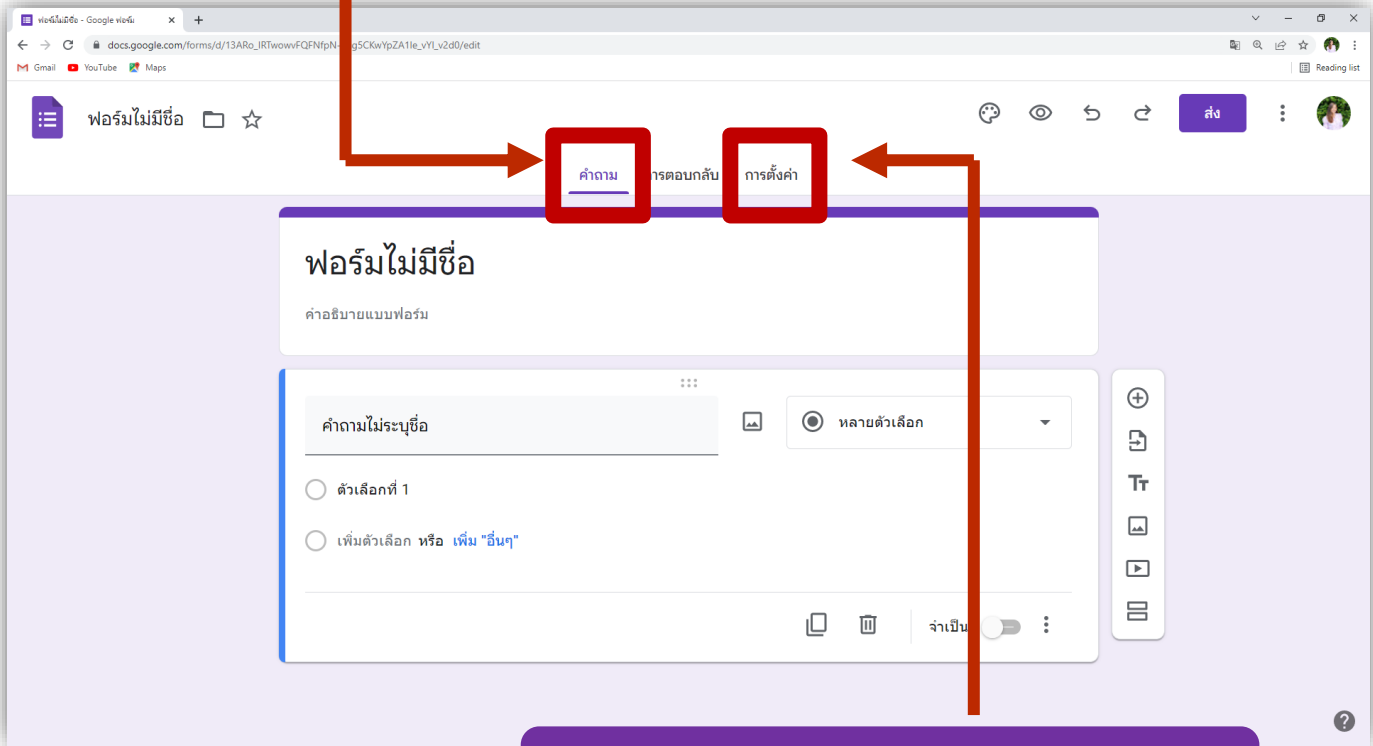
เข้าสู่ระบบ Gmail ที่เว็บไซต์ Google



คลิก + เพื่อเริ่มสร้างแบบสอบถาม หรือแบบทดสอบ



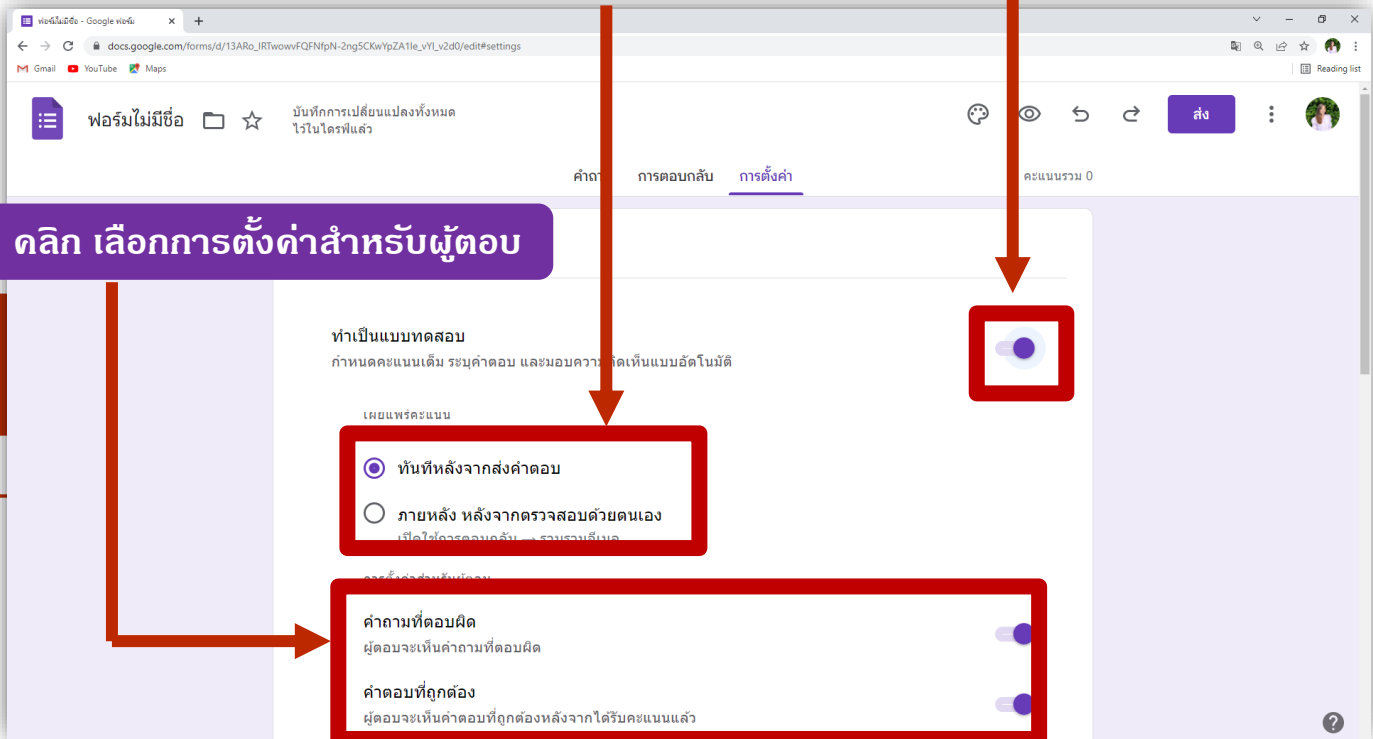
คลิก คำถาม เพิ่มเริ่มสร้างแบบสอบถาม



คลิก การตั้งค่า เมื่อต้องการสร้างแบบทดสอบ

คลิก เปิด เมื่อต้องการสร้างแบบทดสอบ

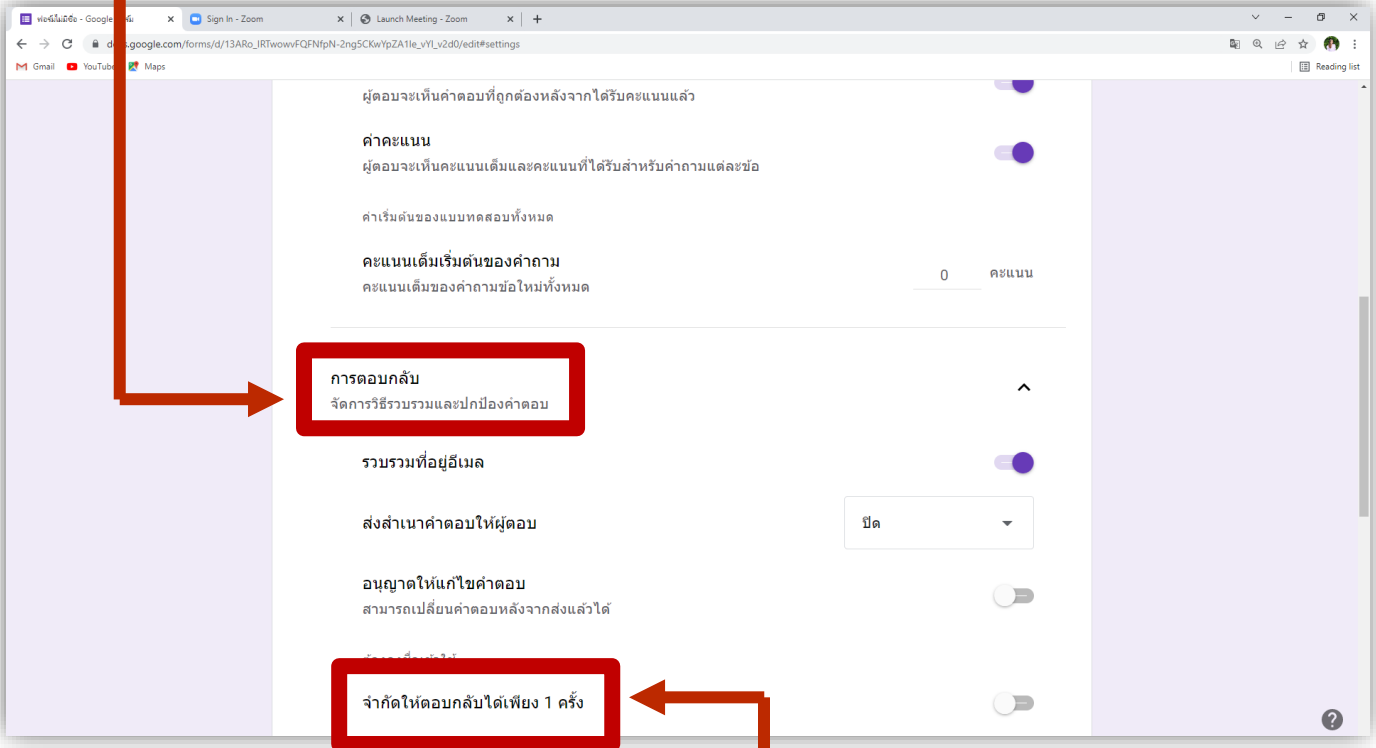
คลิก เลือกวิธีการเผยแพร่คะแนน



คลิก เลือกการตั้งค่าสำหรับผู้ตอบ

## การตอบกลับ

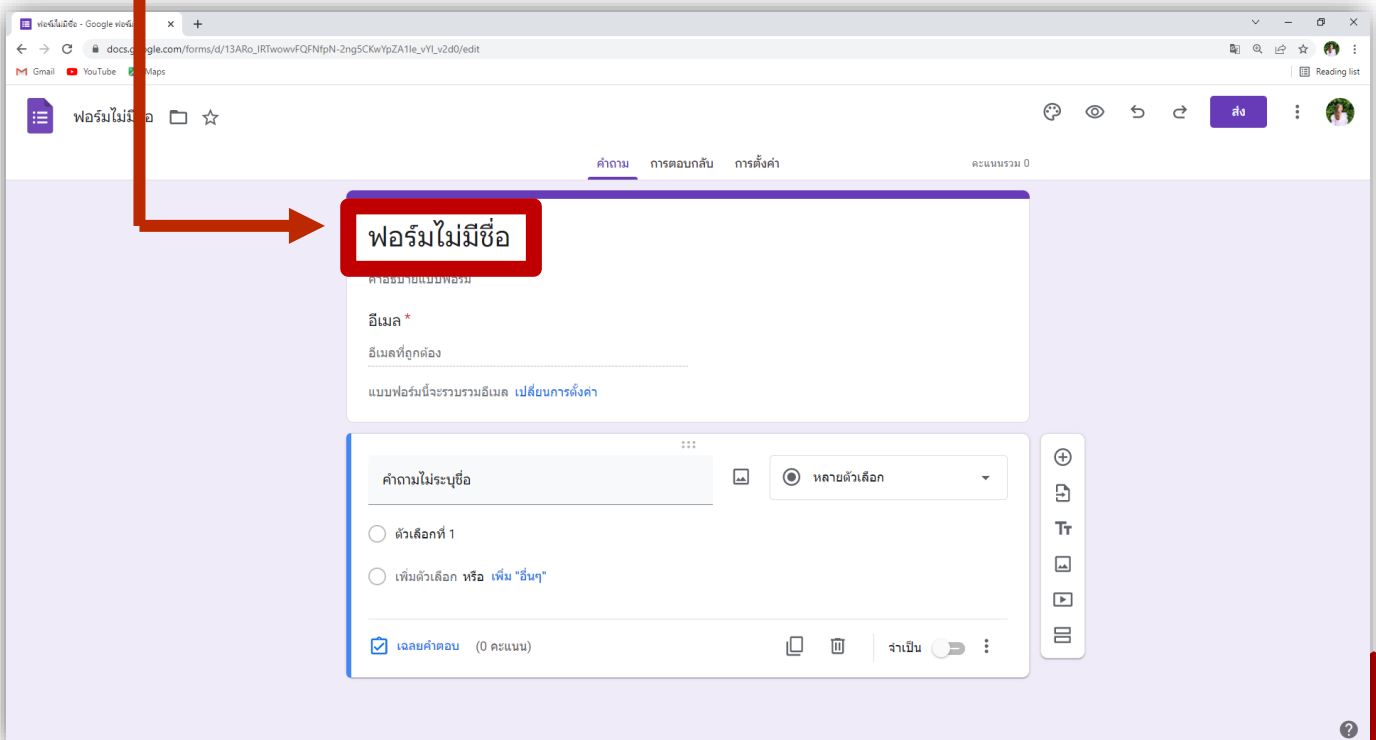
สามารถจัดการวิธีรวบรวมและปกป้องคำตอบได้



สามารถเลือกให้ตอบกลับได้ครั้งเดียวเท่านั้นได้

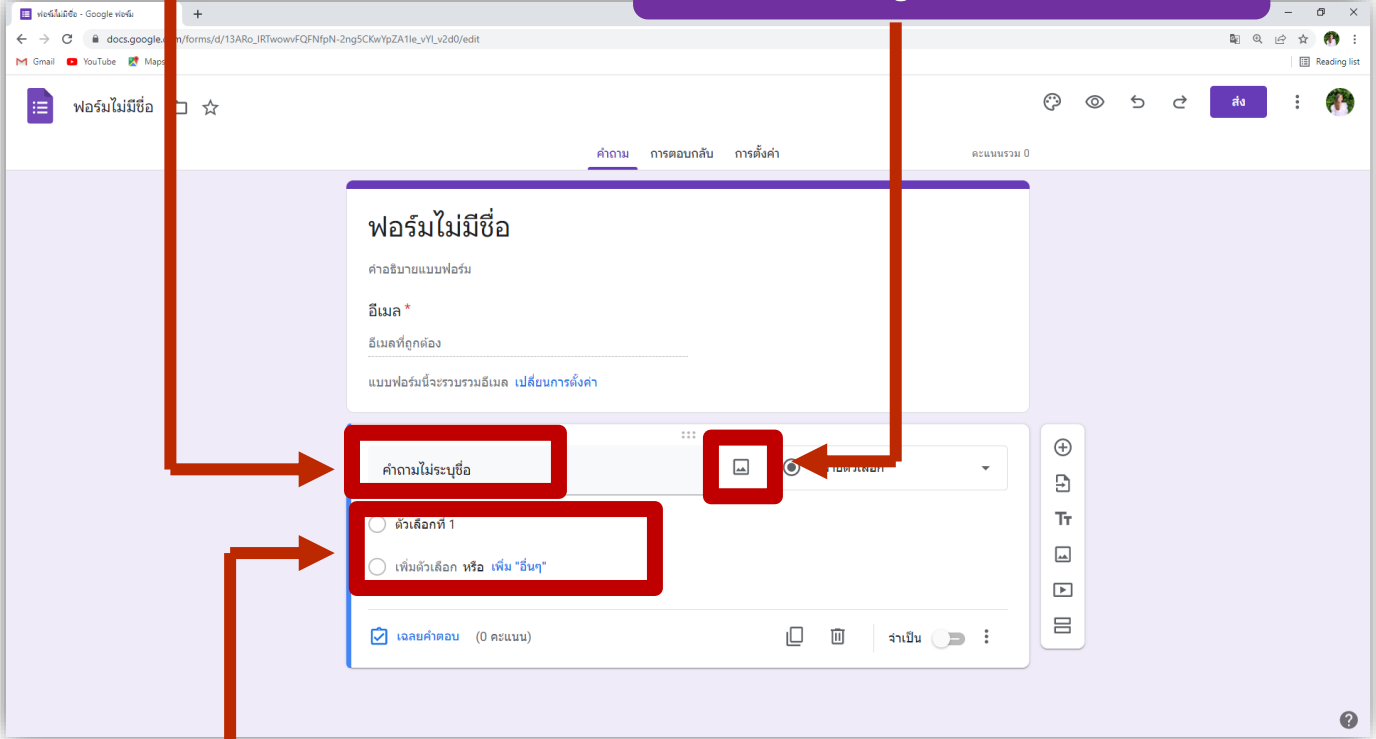
## เมื่อทำการตั้งค่าเรียบร้อยแล้ว

คลิก ฟอรัมไม่มีชื่อเพื่อทำการตั้งชื่อแบบสอบถาม หรือแบบทดสอบ



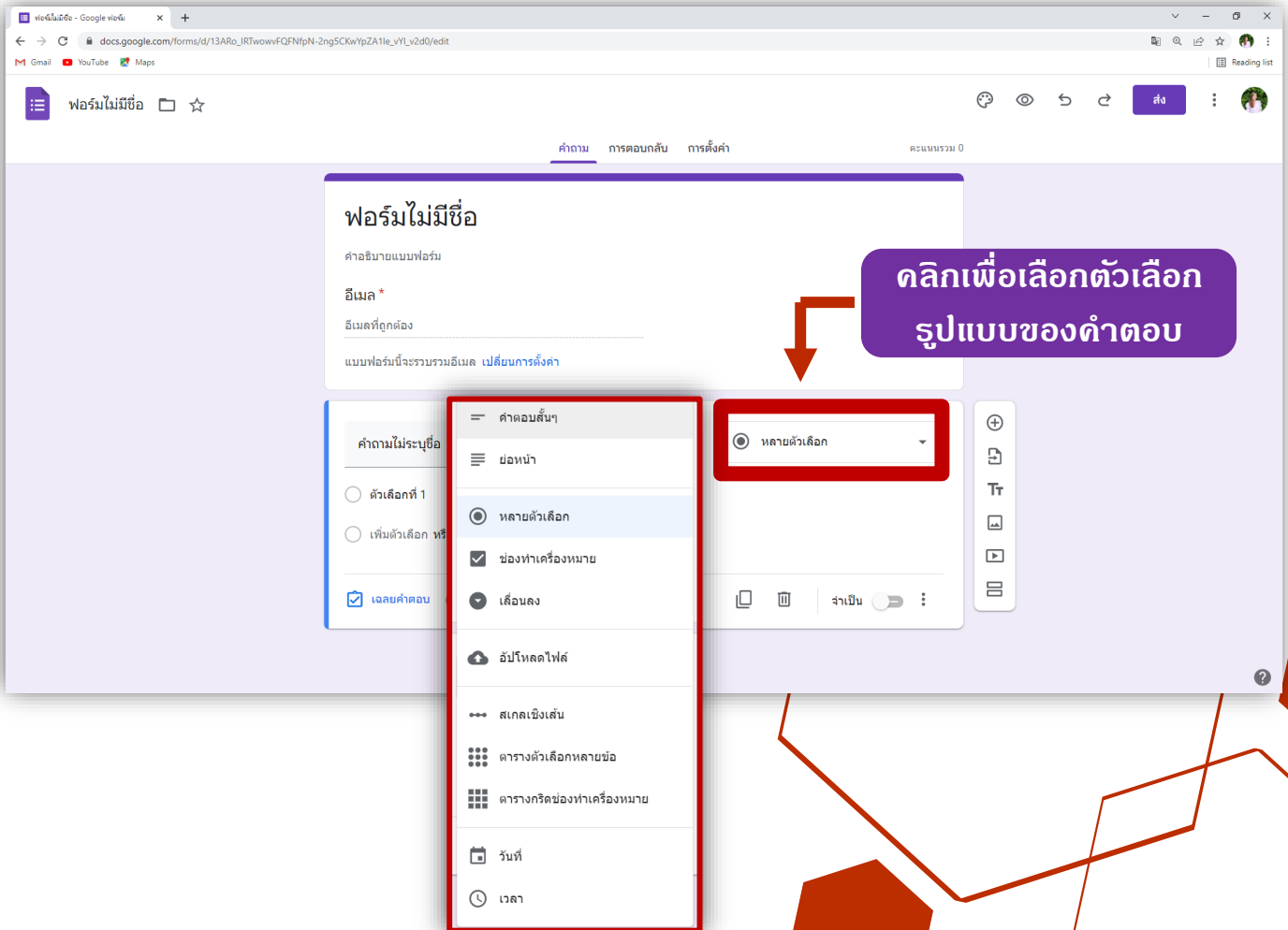
## พิมพ์คำถาม

## คลิกเพื่อเพิ่มรูปภาพของคำถามได้

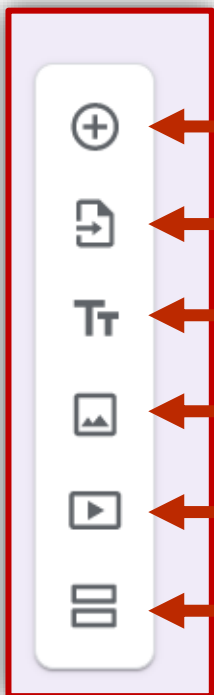
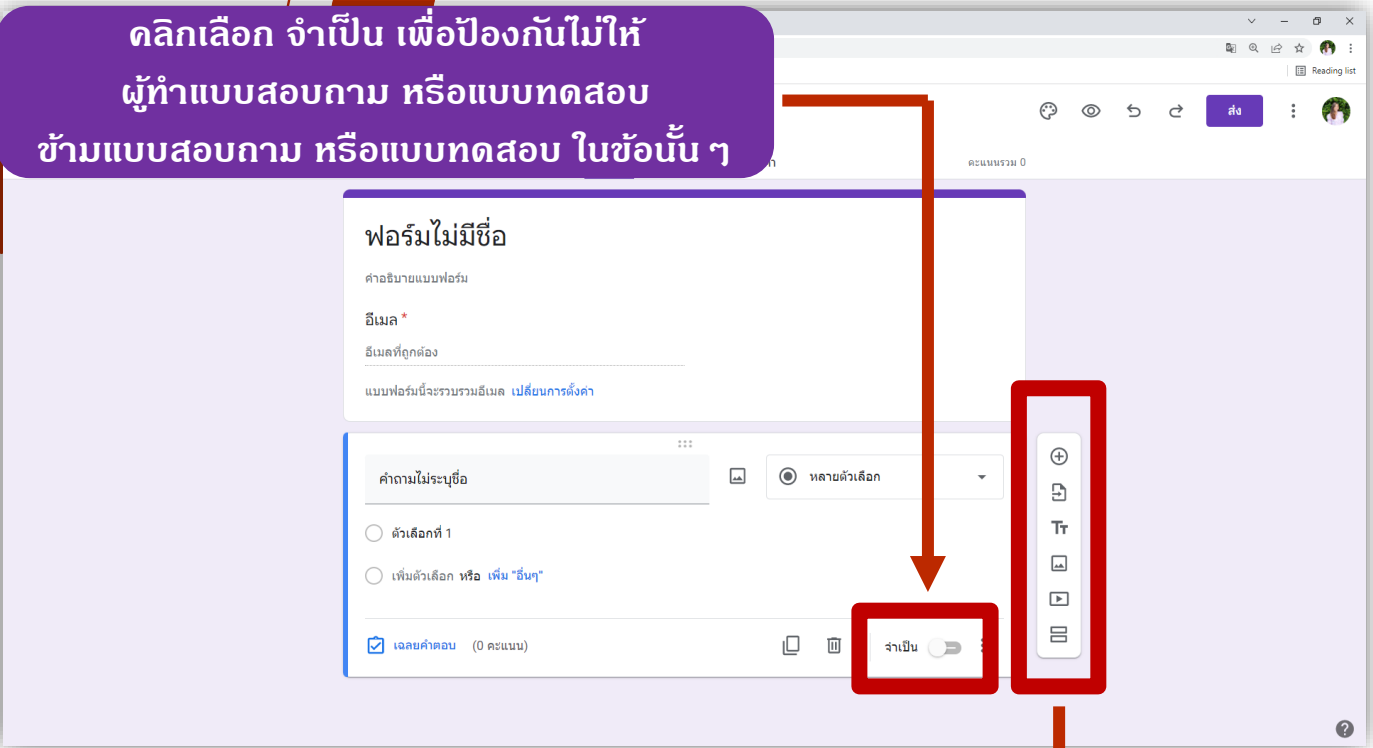


## พิมพ์รายละเอียดตัวเลือกของคำตอบ

## คลิกเพื่อเลือกตัวเลือก รูปแบบของคำตอบ



คลิกเลือก จำเป็น เพื่อป้องกันไม่ให้  
ผู้ทำแบบสอบถาม หรือแบบทดสอบ  
ข้ามแบบสอบถาม หรือแบบทดสอบ ในข้อนั้น ๆ



เพิ่มชุดคำถาม

นำเข้าข้อความ

เพิ่มชื่อและรายละเอียด

เพิ่มรูปภาพ

เพิ่มวิดีโอ

เพิ่มส่วน

ชื่อสอบ รายวิชา DD 211 ทักษะกายวิภาคศาสตร์

คำอธิบายแบบฟอร์ม

อีเมล \*

มีเมลที่ถูกต้อง

แบบฟอร์มนี้จะรวบรวมอีเมล เปลี่ยนการตั้งค่า

1. From this picture, which of the following is correct in representing No. 1,2,3,4?

A. 1 = Mesio-bucco-occlusal Point angle  
 B. 2 = Distobuccal line angle  
 C. 3 = Mesiolingual line angle  
 D. 4 = Mesio-buccal line angle  
 E. None of the above  
 เพิ่มตัวเลือก หรือ เพิ่ม "อื่นๆ"

เฉลยคำตอบ (0 คะแนน)

**คลิก เฉลยคำตอบ**

กำหนดค่าคะแนนของคำตอบที่ถูกต้อง

1. From this picture, which of the following is correct in representing No. 1,2,3,4?

1 คะแนน

**คลิก ข้อที่เป็นคำตอบที่ถูกต้อง (ตัวเลือกจะเป็นสีเขียว พร้อมเครื่องหมาย ✓)**

A. 1 = Mesio-bucco-occlusal Point angle ✓

B. 2 = Distobuccal line angle

C. 3 = Mesiolingual line angle

D. 4 = Mesio-buccal line angle


E. None of the above

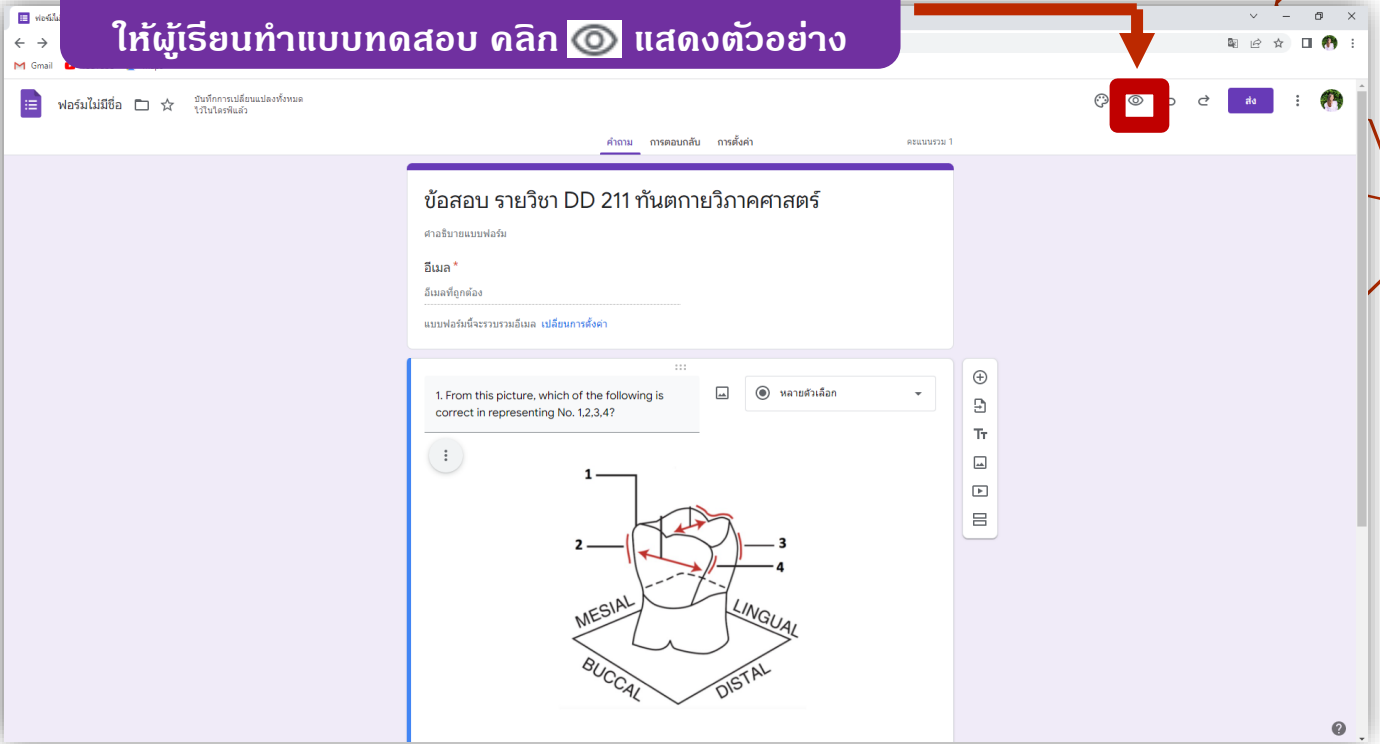
เพิ่มความคิดเห็นสำหรับคำตอบ

**คลิก เพื่อเพิ่มความคิดเห็นสำหรับคำตอบ**

เสร็จสิ้น

**คลิก เสร็จสิ้น**

เมื่อทำแบบทดสอบเสร็จเรียบร้อยแล้ว หากต้องการนำไป  
ให้ผู้เรียนทำแบบทดสอบ คลิก  แสดงตัวอย่าง



ข้อสอบ รายวิชา DD 211 ทันตกายวิภาคศาสตร์

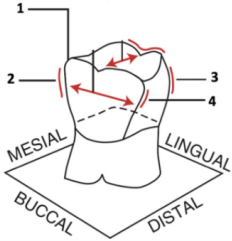
คำอธิบายแบบฟอร์ม

อีเมล \*

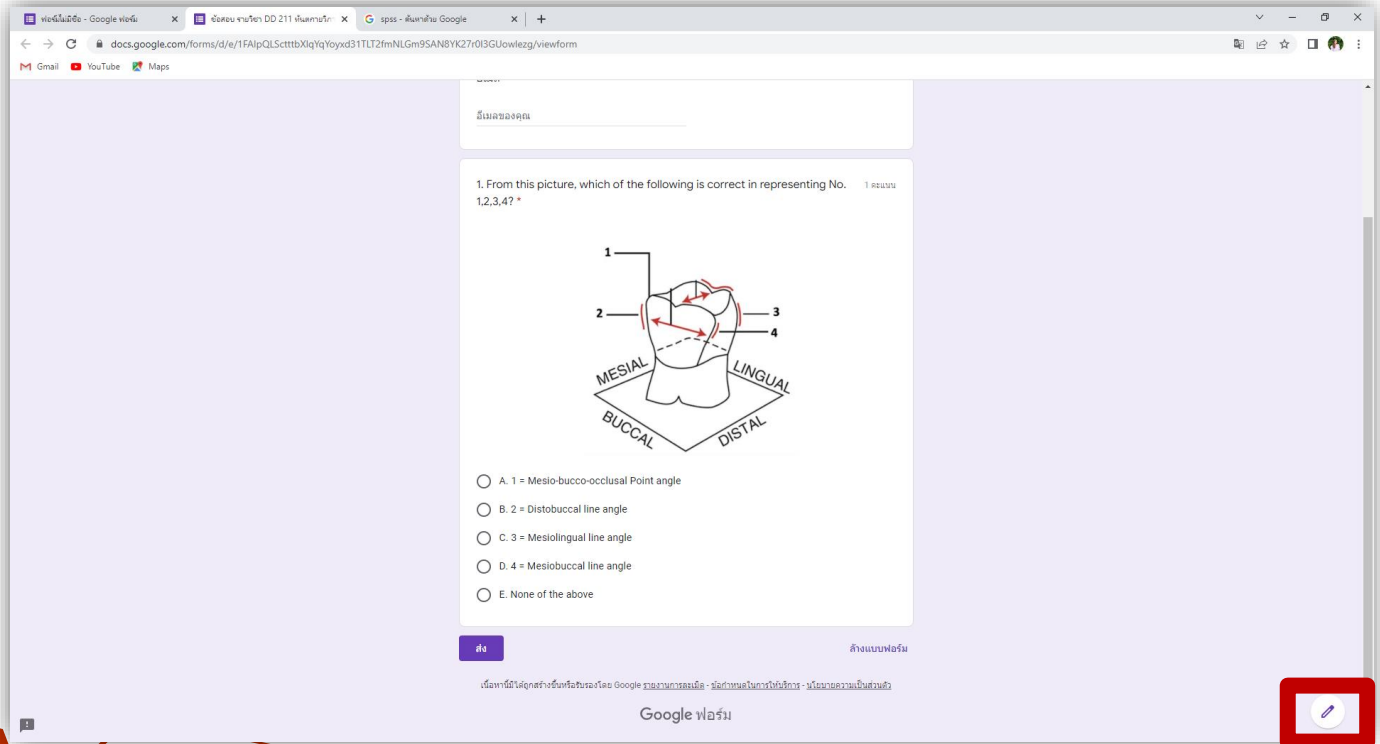
มีเมลที่ถูกต้อง

แบบฟอร์มนี้จะรวบรวมอีเมล เพื่อใช้ในการส่งค่า

1. From this picture, which of the following is correct in representing No. 1,2,3,4?

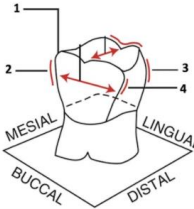


MESIAL LINGUAL  
BUCCAL DISTAL



อีเมลของคุณ

1. From this picture, which of the following is correct in representing No. 1,2,3,4? \*



MESIAL LINGUAL  
BUCCAL DISTAL



A. 1 = Mesio-bucco-occlusal Point angle  
 B. 2 = Distobuccal line angle  
 C. 3 = Mesiolingual line angle  
 D. 4 = Mesio-buccal line angle  
 E. None of the above

ส่ง

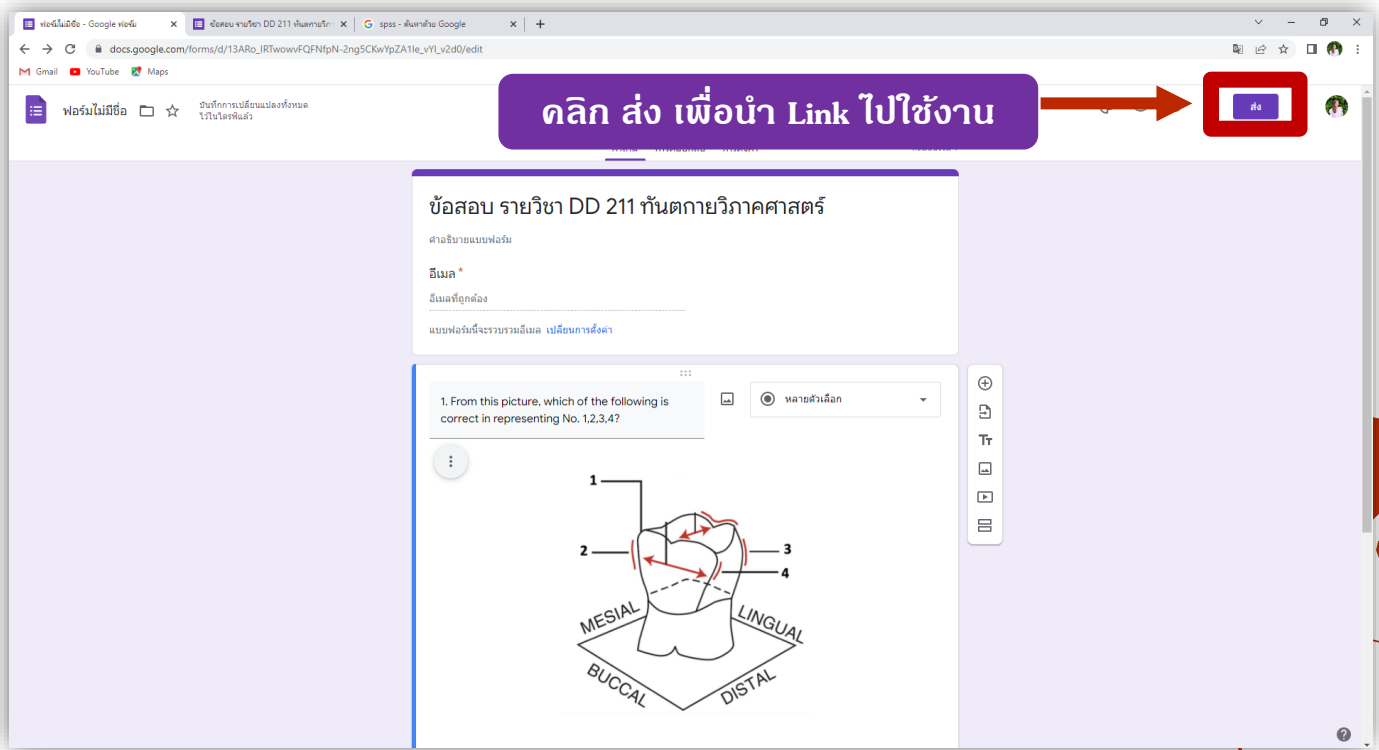
ลิงแบบฟอร์ม

เนื้อหาที่ใช้ได้แก่ส่วนที่ระบุของ Google และ/หรือผลิตภัณฑ์ Google - ผลิตภัณฑ์ของ Google - ผลิตภัณฑ์ของ Google

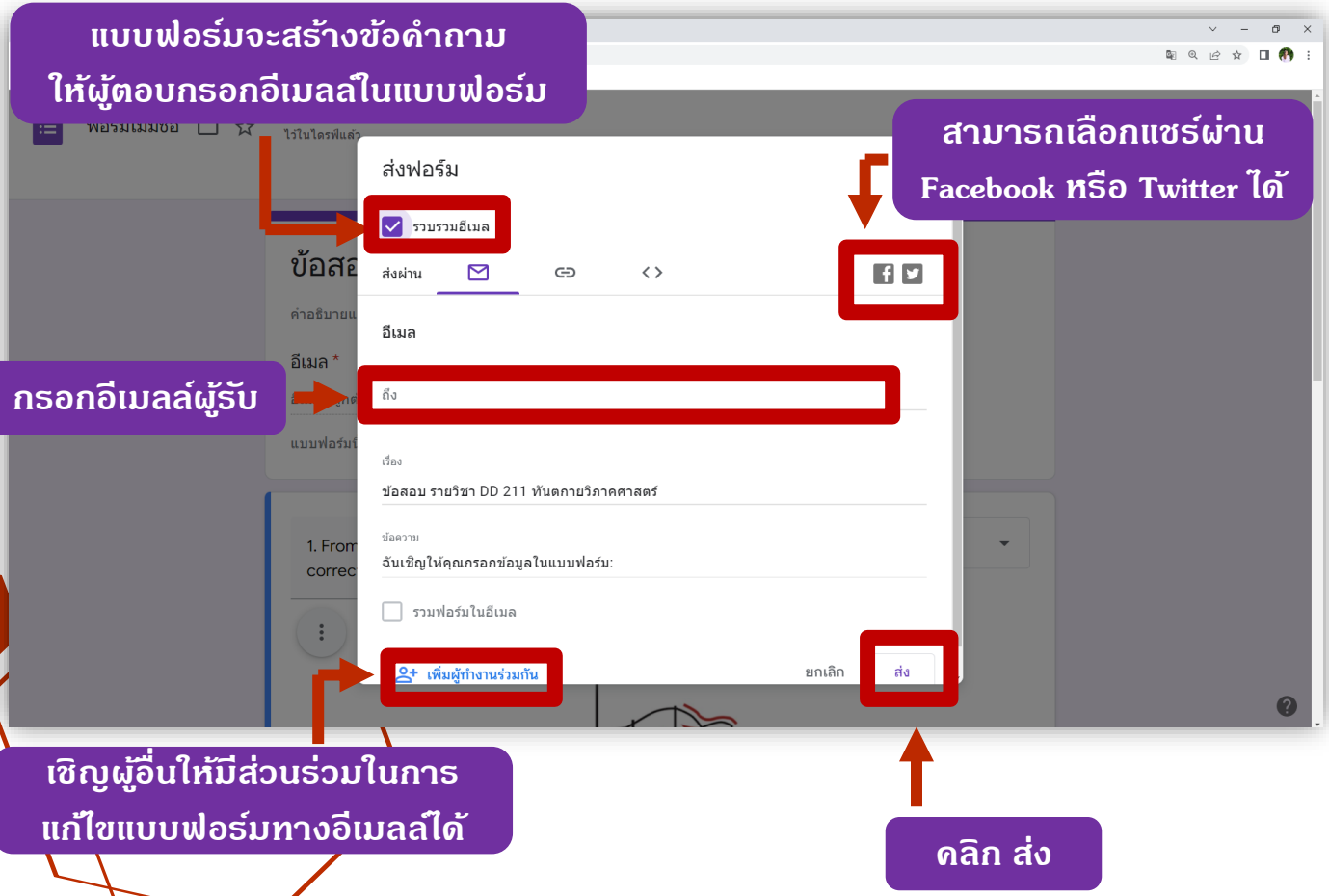
Google ฟอร์ม

เมื่อคลิก  แสดงตัวอย่าง หน้าจอจะแสดงผลดังกล่าว  
หากต้องการแก้ไข คลิก  แก้ไขแบบฟอร์มนี้








กรณีเลือกส่งแบบ อีเมล





## กรณีเลือกส่งแบบ Link


คลิก 


คลิก  เพื่อตัด URL ให้สั้นลง


คลิก  ตัดลอก


คลิก 


คลิก  ตัดลอก


คลิก  **โค้ดภาษา HTML สำหรับแทรกบนเว็บไซต์**

คลิก  ตัดลอก


คลิก  **โค้ดภาษา HTML สำหรับแทรกบนเว็บไซต์**


คลิก  ตัดลอก


คลิก  **โค้ดภาษา HTML สำหรับแทรกบนเว็บไซต์**


คลิก  ตัดลอก


## กรณีเลือกส่งแบบ HTML


คลิก 


คลิก  ตัดลอก


คลิก  **โค้ดภาษา HTML สำหรับแทรกบนเว็บไซต์**

คลิก  ตัดลอก

คลิก  **โค้ดภาษา HTML สำหรับแทรกบนเว็บไซต์**

คลิก  ตัดลอก

คลิก  **โค้ดภาษา HTML สำหรับแทรกบนเว็บไซต์**

คลิก  ตัดลอก

# ข้อสอบ รายวิชา DD 211 ทันตกายวิภาคศาสตร์

chonthicha.cn58@gmail.com สลับบัญชี

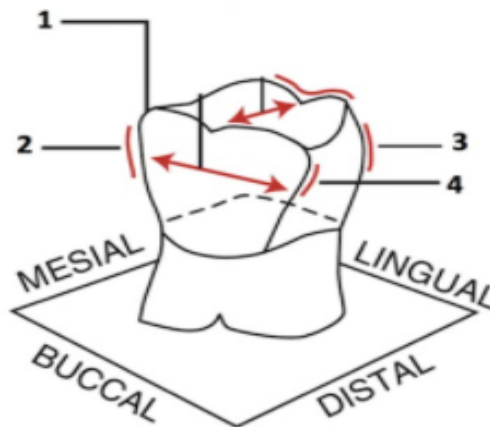
บันทึกฉบับร่างแล้ว

\*จำเป็น

อีเมล \*

อีเมลของคุณ

1. From this picture, which of the following is correct in representing No. 1,2,3,4? \* 1 คะแนน



- A. 1 = Mesio-bucco-occlusal Point angle
- B. 2 = Distobuccal line angle
- C. 3 = Mesiolingual line angle
- D. 4 = Mesiobuccal line angle
- E. None of the above

ส่ง

เมื่อนักศึกษาทำแบบทดสอบครบทุกข้อแล้ว  
คลิก ส่ง เพื่อส่งแบบทดสอบ

# ข้อสอบ รายวิชา DD 211 ทันตกายวิภาคศาสตร์

เราได้บันทึกคำตอบของคุณไว้แล้ว

ดูคะแนน

ส่งคำตอบเพิ่ม

นักศึกษาสามารถดูผลคะแนนของตนเอง  
ได้โดยการ คลิก ดูคะแนน

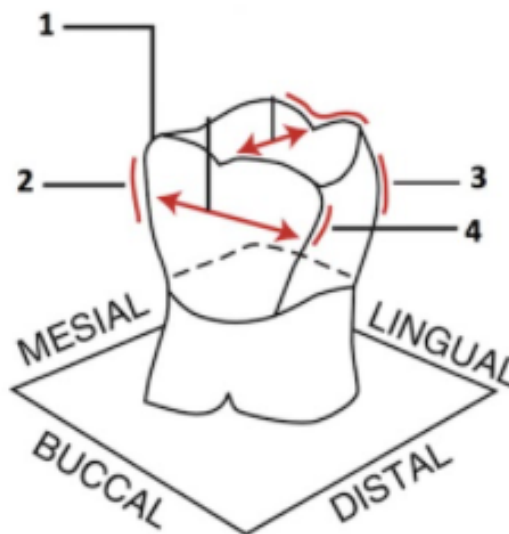
# ข้อสอบ รายวิชา DD 211 ก้นตกายวิภาคศาสตร์

คะแนนรวม 1/1

อีเมล \*

chonthicha.cn58@gmail.com

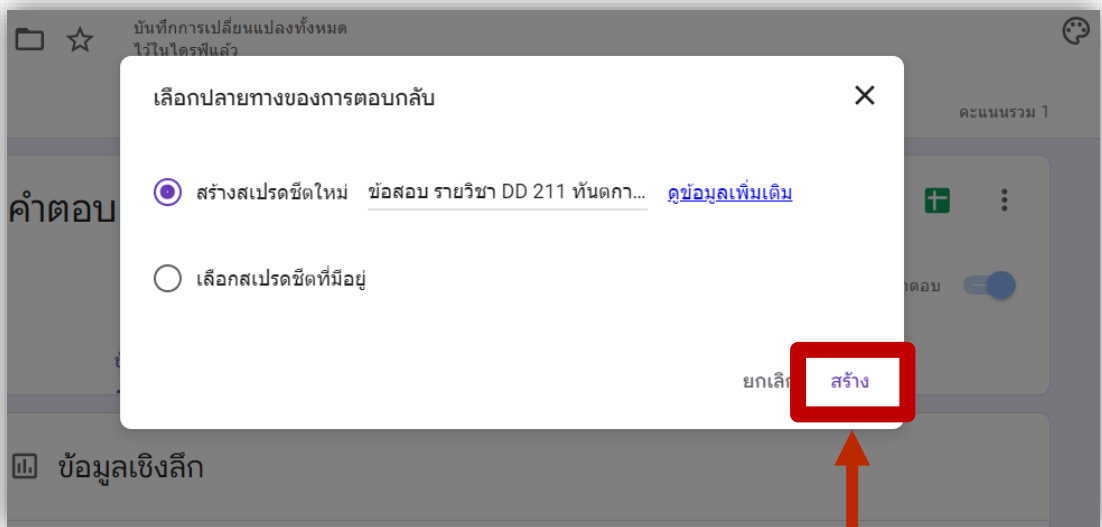
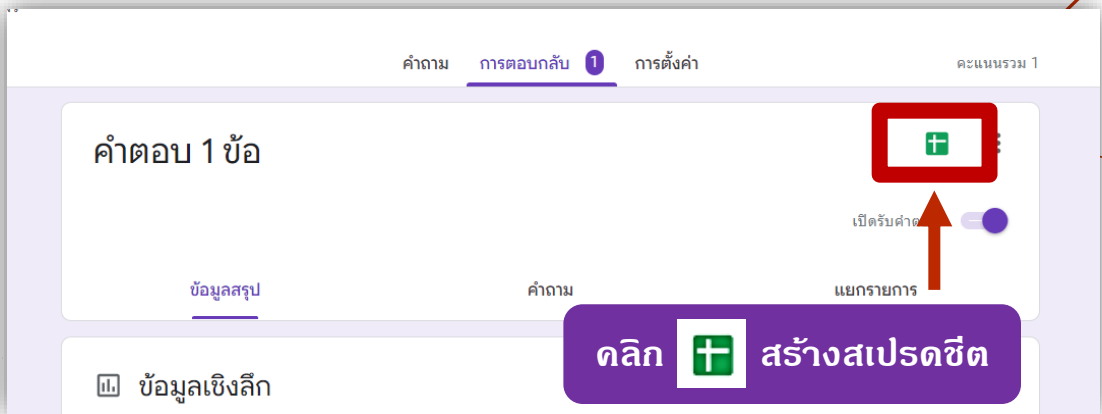
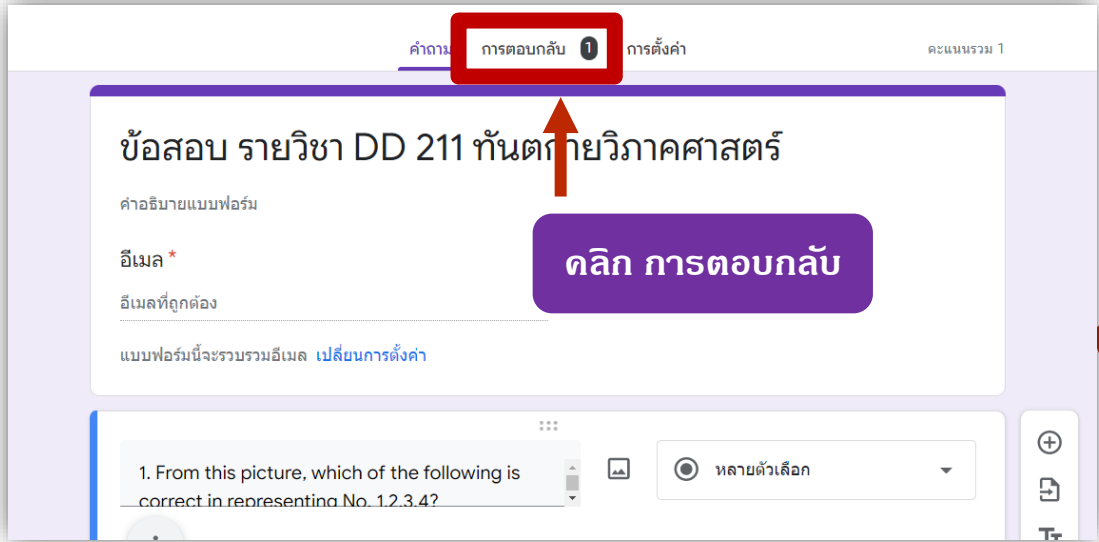
- ✓ 1. From this picture, which of the following is correct in representing No. 1/1 1,2,3,4? \*



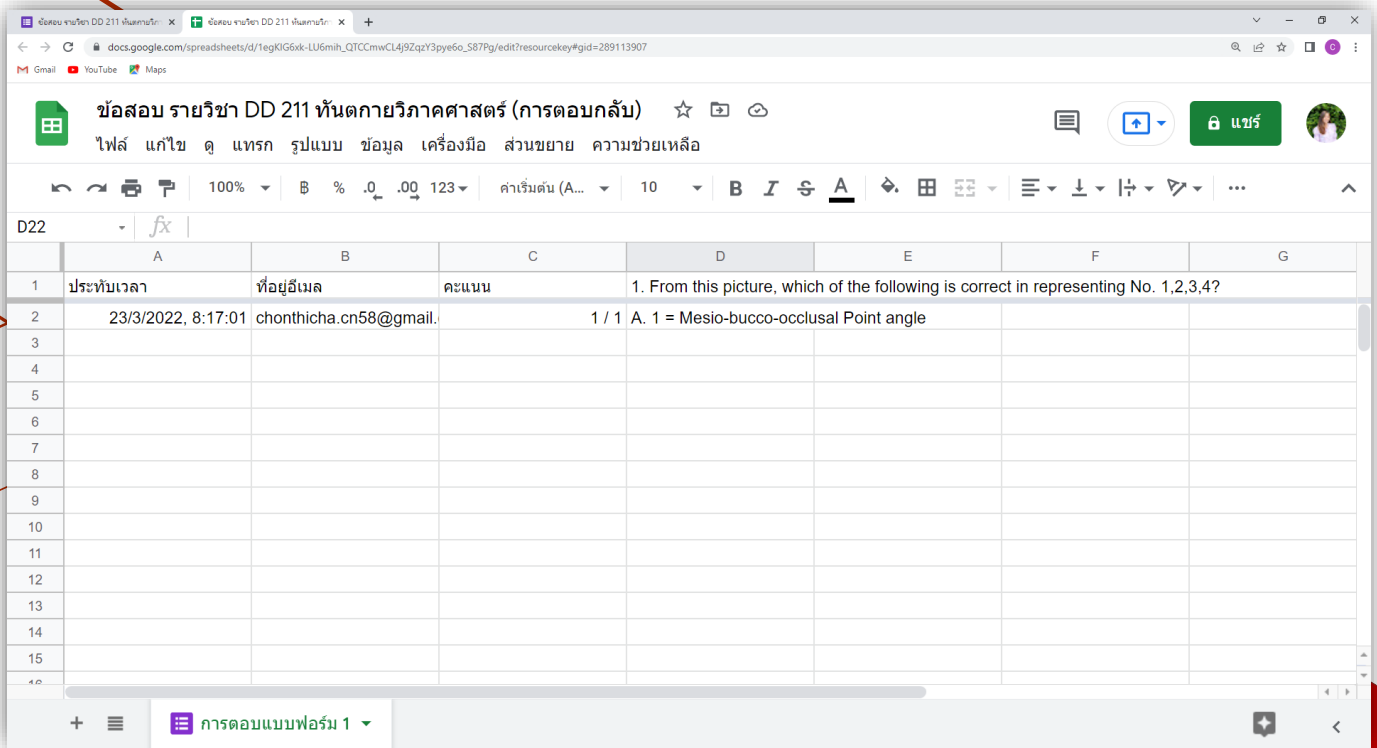
- A. 1 = Mesio-bucco-occlusal Point angle ✓
- B. 2 = Distobuccal line angle
- C. 3 = Mesiolingual line angle
- D. 4 = Mesiobuccal line angle
- E. None of the above

นักศึกษาสามารถดูผลคะแนนของตนเองได้ทันที  
หาผู้สอนกำหนดค่าให้แสดงผลคะแนนข้างต้นไว้

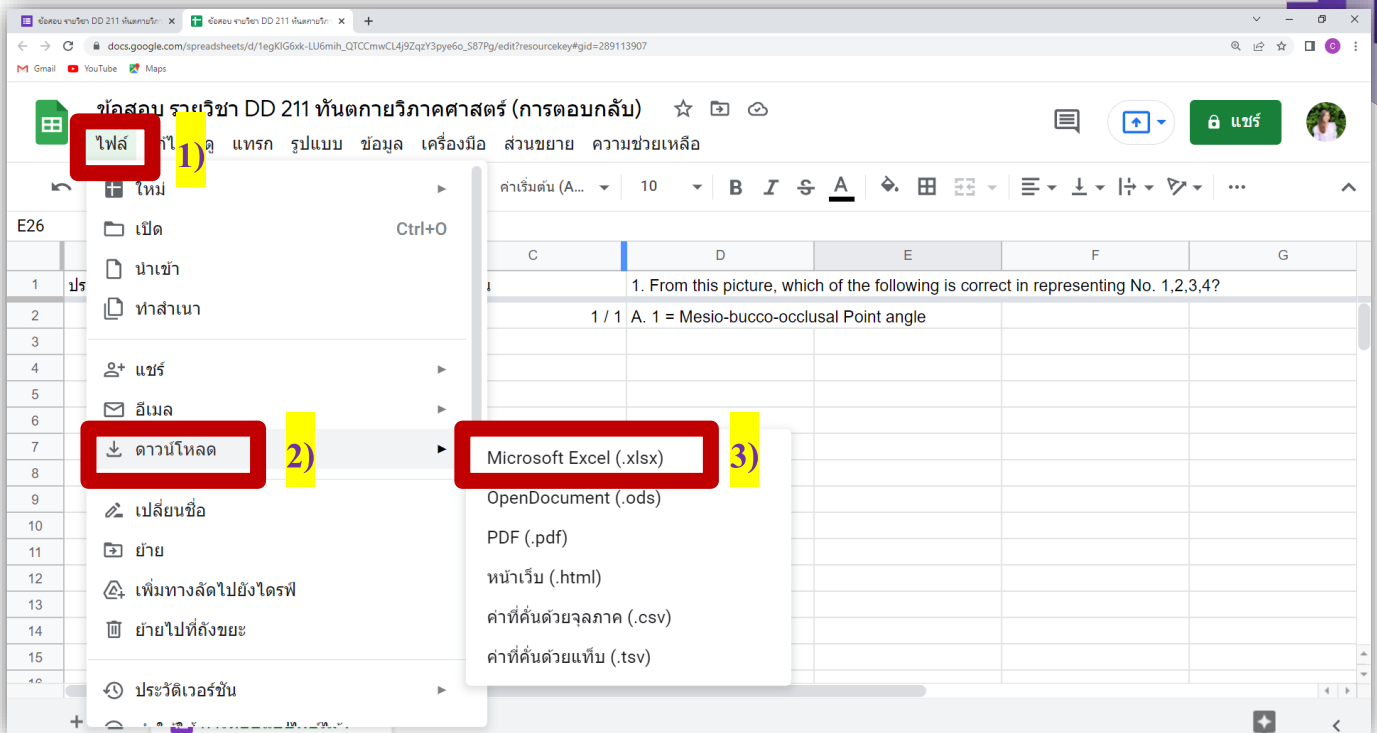
# การดูผลการตอบกลับการทำแบบทดสอบ และการดาวน์โหลดผลคะแนนไปใช้ในรูปแบบไฟล์ Microsoft Excel



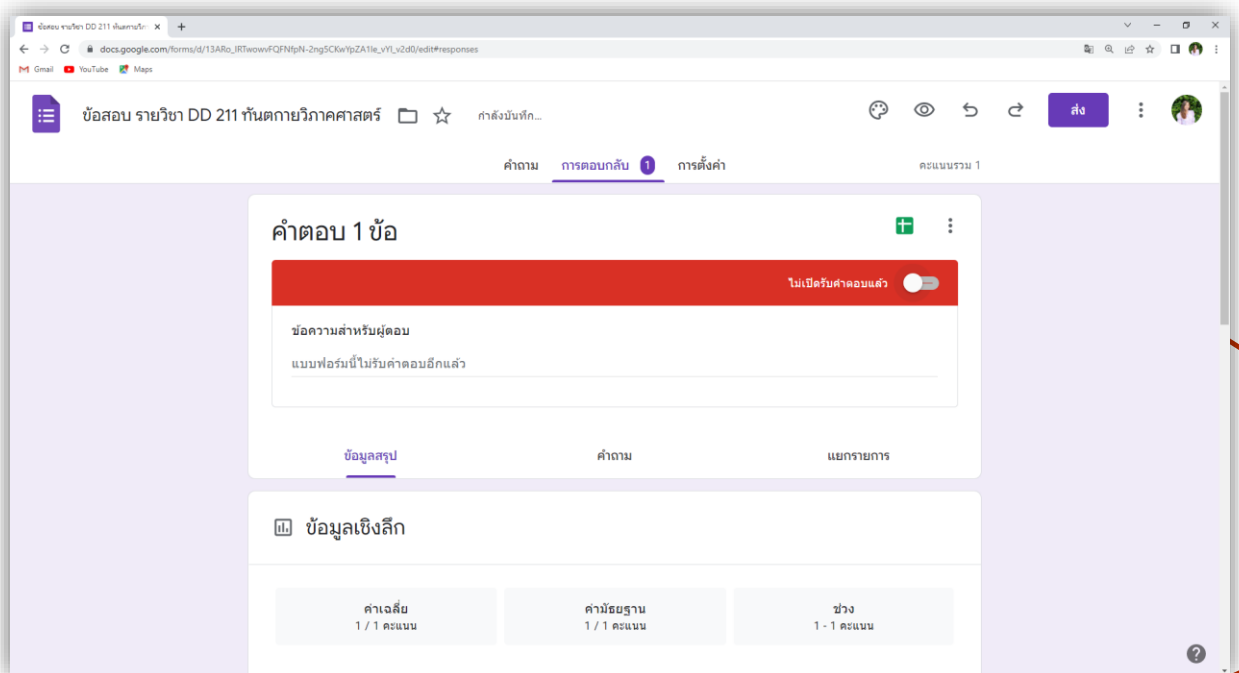
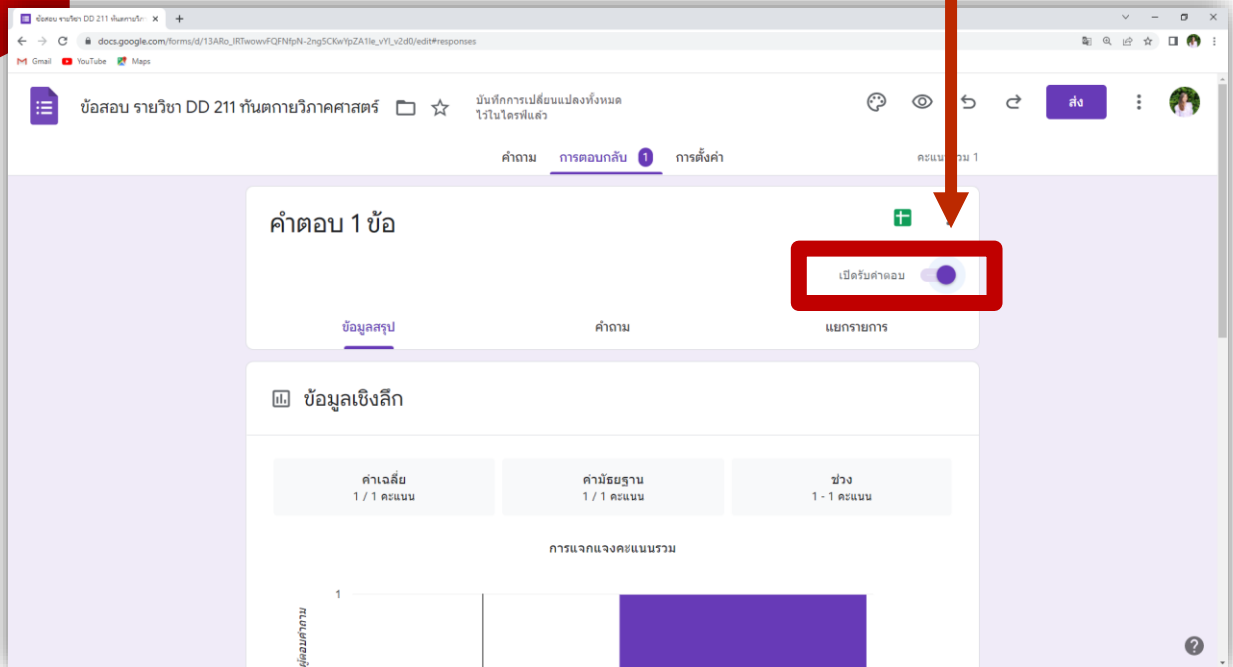
## ผลคะแนนจะแสดงผ่าน Google Sheet



สามารถดาวน์โหลดไฟล์มาใช้งานได้ในรูปแบบไฟล์ Excel  
ไปที่ File > Download > Microsoft Excel



เมื่อนักศึกษาทำแบบทดสอบ หรือแบบสอบถามครบถ้วนแล้ว สามารถคลิกปิดรับคำตอบ และสามารถกลับมาเปิดรับได้อีก





มหาวิทยาลัย  
กรุงเทพธนบุรี

BTU

BANGKOKTHONBURI UNIVERSITY

